




ශ්‍රී ලංකා විවෘත විශ්වවිද්‍යාලය  
 සමාජ විද්‍යා සහතික පත්‍ර පාඨමාලාව - 1 වන මට්ටම - 2008/2009  
 අවසාන පරීක්ෂණය - 2009  
 ආර්ථික විද්‍යාවේ මූලිකාංග - SSF 1303



කාලය - පැය තුනයි (03)

දිනය 2009 ඔක්තෝබර් 25

වේලාව ප.ව 1.30 සිට ප.ව 4.30

එක් කොටසකින් අවම වශයෙන් එක ප්‍රශ්නයක්වත් තෝරාගෙන ප්‍රශ්න පහකට (05) පමණක් පිළිතුරු සපයන්න. ප්‍රස්ථාර කොළ සපයනු ලැබේ.

**I කොටස**

1.
  - i. නිතකම යන සංකල්පය පැහැදිලි කරන්න. (ලකුණු 03)
  - ii. රටක් මුහුන දෙන මූලික ආර්ථික ප්‍රශ්න දක්වන්න. (ලකුණු 04)
  - iii. ලෝකයේ ඇති ප්‍රධාන ආර්ථික ක්‍රම 3 කෙටියෙන් පැහැදිලි කරන්න. (ලකුණු 05)
  - iv. ආර්ථික වර්ධනය යනු කුමක්ද? නිශ්පාදන හැකියා වක්‍රය ආධාරයෙන් පැහැදිලි කරන්න. (ලකුණු 08)
2.
  - i. “ආවස්ථික පිරිවැය” යන සංකල්පය විස්තර කරන්න. (ලකුණු 03)
  - ii. “ප්‍රාග්ධන භාණ්ඩ” හා “මානව භාණ්ඩ” (Human Capital) අතර වෙනස පැහැදිලි කරන්න. (ලකුණු 04)
  - iii. හුමස් සැපයීම පූර්ණ අනමය වන්නේ මන්ද? (ලකුණු 05)
  - iv. ශ්‍රම විභජනය යන සංකල්පය නිර්වචනය කරන්න. අනෙක් නිශ්පාදන ශාධක වලින් ශ්‍රමය වෙන් වන්නේ කුමන වැදගත් ලක්ෂණ වලින් දැයි දක්වන්න. (ලකුණු 08)
3. පහත සඳහන් යුගලයන් දෙකක් තෝරාගෙන කෙටි සටහන් ලියන්න. (ලකුණු 10 බැගින්)
  - i. චුළුමහා සහ අවයසතා
  - ii. තේරීම් සහ සම්පත් වෙන් කිරීම
  - iii. ප්‍රාග්ධන සුඝෂම ශිල්පීය ක්‍රමය හා ශ්‍රම සුඝෂම ශිල්පීය ක්‍රමය

**II කොටස**

4.
  - (a) i. “සැපයුම පිළිබඳ හිඟිය” නිර්වචනය කරන්න. (ලකුණු 04)
  - ii. “ඉල්ලුමේ වෙනස්වීම” හා “ඉල්ලුම් ප්‍රමාණයේ වෙනස්වීම” යනු එකම සංකල්පයක් නොවේ. රූපසටහන් යොදාගෙන මෙම කියමන පැහැදිලි කරන්න. (ලකුණු 06)
  - (b) ‘X’ නිශ්පාදනය සඳහා ඉල්ලුම් හා සැපයුම් ලේඛනයක් පහත වගුවෙහි දක්වා ඇත.

| මිල (රුපියල්) | ඉල්ලුම් ප්‍රමාණය | සැපයුම් ප්‍රමාණය |
|---------------|------------------|------------------|
| 3             | 350              | 150              |
| 7             | 260              | 500              |


i. ඉල්ලුම් හා සැපයුම් වක්‍ර සටහන් කරන්න. (ප්‍රස්ථාර කොළ යොදා ගන්න)  
(ලකුණු 06)

ii. සමතුලිත මිල හා ප්‍රමාණය සොයන්න. (ලකුණු 05)

5. ප්‍රස්ථාර හා ගණිත ක්‍රම යොදාගෙන පහත දැක්වෙන සංකල්පවල වෙනස්කම් පැහැදිලි කරන්න.  
(ලකුණු 10 බැගින්)

i. ආදායම් නම්‍යතාවය හා හරස් ඉල්ලුම් නම්‍යතාවය

ii. මිල උපරිමය හා මිල මට්ටම්



6. i. ඒකාධිකාරයේ ලක්ෂණ පැහැදිලි කරන්න. (ලකුණු 03)

ii. පුණී තරඟකාරී වෙළඳපලක මිල තීරණය වන්නේ කෙසේද? විස්තර කරන්න.  
(ලකුණු 07)

iii. සාමාන්‍ය අයහාරය (AR) හා ආන්තික අයහාරය (MR) අතර වෙනස්කම් පැහැදිලි කරන්න. (ලකුණු 07)

iii. පහත දැක්වෙන නිශ්පාදන ශ්‍රී ලංකාවේ වෙළඳාම සඳහා යොදාගෙන ඇති වෙළඳ පොළවල් මොනවාද?  
(ලකුණු 03)

- (a) පාවහන්
- (b) එලවළු
- (c) විදුලි බලය

### III කොටස

7. i. “ඒක පුද්ගල ආදායම” පැහැදිලි කරන්න. (ලකුණු 04)

ii. දළ ජාතික නිශ්පාදනය හා ශුද්ධ ජාතික නිශ්පාදනය අතර ඇති වෙනස්කම් මොනවාද? (ලකුණු 06)

iii. ශ්‍රී ලංකා ආර්ථිකයේ මූලික ආර්ථික අංශ (sectors) තුන නම්කොට එයින් එකක් පැහැදිලි කරන්න. (ලකුණු 10)

8. i. “ජාතික ආදායම්” යන සංකල්පය නිර්වචනය කරන්න. (ලකුණු 04)

ii. “සාධක පිරිවැය” හා “වෙළඳපොල මිල” අතර වෙනස දක්වන්න. (ලකුණු 06)

i. “ද්විගුණනය” යනුවෙන් ඔබ අදහස් කරන්නේ කුමක්ද? මෙම ගැටළුව නිරාකරණය කරගන්නේ කෙසේද? (ලකුණු 10)

9. පහත සඳහන් මාතෘකා වලින් 4ක් තෝරාගෙන කෙටි සටහන් ලියන්න.  
(ලකුණු 05 බැගින්)


- i. මුළු අයහාරය
- ii. ආදායම් වෘත්ත ප්‍රවාහය
- iii. නිශ්පාදන ක්‍රියාවලිය (Production Function)
- iv. කතිපයාධිකාරය
- v. ඉල්ලුම් ලේඛනය
- vi. ශ්‍රමයෙහි පළදායීතාවය

THE OPEN UNIVERSITY OF SRI LANKA  
DEPARTMENT OF SOCIAL SCIENCES  
CERTIFICATE IN SOCIAL SCIENCES – LEVEL I (2008/2009)  
FINAL EXAMINATION 2009  
SSF 1303 – FUNDAMENTALS OF ECONOMICS



DURATION – THREE (03) HOURS

Date: 25<sup>th</sup> October 2009



Time: 1.30 p.m. – 4.30 p.m.

Answer five (05) questions only.

Select at least one question from each part. Graph papers are provided.

Part I

1.
  - i. Explain the concept of scarcity (3 marks)
  - ii. State the fundamental economic problems faced by a country. (4 marks)
  - iii. Briefly explain the major types of economic systems in the world. (5 marks)
  - iv. What is economic growth? Explain it using the production possibility curve. (8 marks)
2.
  - i. Describe the concept of opportunity cost. (3 marks)
  - ii. Explain the difference between capital good and human capital (4 marks)
  - iii. Why is the supply of land perfectly inelastic? (5 marks)
  - iv. Define the concept of division of labour. State the special characteristics that differentiate labour from other factors of production. (8 marks)
3. Write short notes on any two of the following pairs (each 10 marks)
  - i. Needs and wants
  - ii. Choice and resource allocation.
  - iii. Capital intensive techniques and labour intensive techniques.

Part II

4.
  - a.
    - i. Define the law of supply (4 marks)
    - ii. "Change in demand and change in quantity of demanded do not mean the same" Explain this statement using diagram. (6 marks)
  - b. The demand and supply schedules for product 'x' are shown in the table below.

| Price (Rs.) | Quantity of Demand | Quantity of Supply |
|-------------|--------------------|--------------------|
| 3           | 350                | 150                |
| 7           | 260                | 500                |

    - i. Plot the demand and supply curves on a graph (5 marks)
    - ii. Find the equilibrium price and quantity (5 marks)

5. Explain the differences between the following concepts using graphs and equation. (10 marks for each)
- Income elasticity and cross elasticity of demand
  - Price ceiling and price floor
6. i. Explain the characteristics of monopoly (3 marks)
- Describe how the price is determined in a perfectly competitive market (7 marks)
  - Explain the difference between AR and MR (7 marks)
  - In which markets the following produces are traded in the context of Sri Lanka (3 marks)
    - shoes
    - vegetable
    - electricity



### Part III

7. i. Explain "per capita income" (4 marks)
- State the difference between Gross National Product and Net National Product (6 marks)
  - Name the three main sectors of the Sri Lankan economy and explain each of them. (10 marks)
8. i. Define the concept of National Income? (4 marks)
- Differentiate the factor cost price and market price (6 marks)
  - What is meant by "double-counting"? How are these problems solved? (10 marks)
9. Write brief notes on any four (04) of the followings. (5 Marks each)
- Total Revenue
  - Circular flow of Income
  - Production function
  - Oligopoly
  - Demand schedule
  - Productivity of labour




இலங்கை திறந்த பல்கலைக்கழகம்  
சமூகக் கற்கைகள் துறை  
சமூகவிஞ்ஞானத்தில் சான்றிதழ் கற்கை நெறி - மட்டம் II, 2008/2009  
இறுதிப் பரீட்சை - 2009  
பொருளியலின் அடிப்படைகள் SSF 1303

காலம் : 3 மணித்தியாலங்கள்

திகதி : 25.10.2009

நேரம் : பி.ப 1.30 - 4.30 வரை



ஐந்து (5) வினாக்களுக்கு மட்டும் விடை எழுதுக.  
ஒவ்வொரு பகுதியிலிருந்தும் குறைந்தது ஒரு வினாவையேனும் தெரிவு செய்க.  
வுரைபடத் தாள் வழங்கப்படும்

பகுதி - 1

1. அ. அருமை என்ற எண்ணக்கருவை விளக்குக. (3புள்ளிகள்)  
ஆ. ஒரு நாடு எதிர்நோக்கும் அடிப்படை பொருளாதாரப் பிரச்சினைகள் யாவை? (4புள்ளிகள்)  
இ. உலகில் காணப்படும் பிரதான பொருளாதார முறைகளை சுருக்கமாக விளக்குக. (5புள்ளிகள்)  
ஈ. பொருளாதார வளர்ச்சி என்றால் என்ன? உற்பத்தி சாத்திய வளைகோட்டின் உதவியுடன் விளக்குக. (8புள்ளிகள்)
2. அ. சந்தர்ப்பச் செலவு என்ற எண்ணக்கருவை விளக்குக. (3புள்ளிகள்)  
அ. மூலதனப் பொருட்கள் மற்றும் மானிட மூலதனம் என்பவற்றுக்கிடையிலான வேறுபாட்டினை விளக்குக. (4புள்ளிகள்)  
இ. நிலத்திற்கான நிரம்பல் ஏன் பூரண நெகிழ்ச்சியற்றதாக உள்ளது? (5புள்ளிகள்)  
ஈ. தொழிற் பிரிப்பு என்ற எண்ணக்கருவை வரைவிலக்கணப்படுத்துக.. ஏனைய உற்பத்திக் காரணிகளிலிருந்து உழைப்பினை வேறுபடுத்தும் சிறப்பம்சங்களை குறிப்பிடுக. (8புள்ளிகள்)
3. பின்வருவனவற்றில் ஏதாவது இரண்டு சோடிப் பதங்களுக்கு சிறுகுறிப்பு எழுதுக.  
அ. தேவையும் விருப்பங்களும்  
ஆ. தெரிவும் வள ஒதுக்கீடும்  
இ. மூலதன செறிவான தொழில் நுட்பமும் ஊழிய செறிவான தொழில் நுட்பமும்

பகுதி - II

4. அ. i. நிரம்பல் விதியினை வரைவிலக்கணப்படுத்துக. (4புள்ளிகள்)  
 ii. “கேள்வி மாற்றமும் கேள்வித் தொகை மாற்றமும் ஒன்றல்ல” இக் கூற்றினை வரைபடத்தின் உதவியுடன் விளக்குக. (6புள்ளிகள்)

ஆ. “X” என்ற உற்பத்திப் பொருளுக்கான கேள்வி , நிரம்பல் தரவுகள் தொடர்பான அட்டவணை கீழே கொடுக்கப்பட்டுள்ளன.

| விலை(ரூபாய்) | கேள்வித் தொகை | நிரம்பல் தொகை |
|--------------|---------------|---------------|
| 3.00         | 350           | 150           |
| 7.00         | 260           | 500           |

- i. வரைபுத்தாள் ஒன்றில் கேள்வி , நிரம்பல் கோடுகளை வரைக. (5புள்ளிகள்)  
 ii. சமநிலை விலை மற்றும் தொகை என்பவற்றை காண்க. (5புள்ளிகள்)
5. பின்வரும் எண்ணக்கருக்களுக்கிடையிலான வேறுபாட்டை சமன்பாடு மற்றும் வரைபுகளை பயன்படுத்தி விளக்குக. (10புள்ளிகள் வீதம்)


அ. கேள்வியின் வருமான நெகிழ்ச்சியும் , குறுக்கு நெகிழ்ச்சியும்  
 ஆ. உயர்ந்த பட்ச விலையும் குறைந்த பட்ச விலையும்

6. அ. தனியுரிமையின் இயல்புகளை விளக்குக. (3புள்ளிகள்)  
 ஆ. நிறைபோட்டிச் சந்தையொன்றில் விலை எவ்வாறு தீர்மானிக்கப்படுகின்றது என்பதை விளக்குக. (7புள்ளிகள்)
- இ. சராசரி வருமானம் (AR), எல்லை வருமானம் (MR) என்பவற்றுக்கிடையிலான வேறுபாட்டினை விளக்குக. (7புள்ளிகள்)
- ஈ. இலங்கையில் பின்வரும் பொருட்கள் எச் சந்தையில் விற்பனை செய்யப்படுகின்றன.
- i. பாதணிகள்  
 ii. காய்கறிகள்  
 iii. மின்சாரம் (3புள்ளிகள்)



பகுதி - III

7. அ. “ஆள்வீத வருமானம்” என்பதை விளக்குக. (3புள்ளிகள்)  
ஆ. மொத்த தேசிய உற்பத்தி தேறிய தேசிய உற்பத்தி  
என்பவற்றுக்கிடையிலான வேறுபாட்டை விளக்குக. (6புள்ளிகள்)  
இ. இலங்கையின் பொருளாதாரத்தில் உள்ள பிரதான மூன்று துறைகளைப்  
பெயரிடுக. அவை ஒவ்வொன்றையும் விளக்குக. (10புள்ளிகள்)
8. அ. தேசிய வருமானம் என்ற எண்ணக்கருவை விளக்குக. (4புள்ளிகள்)  
ஆ. காரணி செலவு விலை , சந்தை விலை என்பவற்றை வேறுபடுத்துக.  
(6புள்ளிகள்)  
இ. இரட்டைக் கணிப்பு என்பதிலிருந்து நீர் விளங்கிக் கொள்வது யாது?  
எவ்வாறு இப் பிரச்சினை தீர்க்கப்படுகின்றது. (10புள்ளிகள்)
9. பின்வருவனவற்றில் நான்கிற்கு ( 4 ) சிறுகுறிப்பு எழுதுக.  
அ. மொத்த வருமானம்  
ஆ. வருமான சுற்றோட்டம்  
இ. உற்பத்தி தொழிற்பாடு  
ஈ. சிலருரிமை  
உ. கேள்வி அட்டவணை  
ஊ. உழைப்பின் உற்பத்தி திறன்



(5புள்ளிகள். வீதம்)

( பதிப்புரிமையுள்ளது.)