

ශ්‍රී ලංකා විවෘත විශ්වවිද්‍යාලය

නීතිවේදී උපාධි වැදගත්කම - 3 වන මට්ටම

අවසාන පරීක්ෂණය 2009/2010

නීති ක්‍රම - LWU 1412



කාලය - පැය 3 සි

දිනය: 2010 මාර්තු 28 වන දින

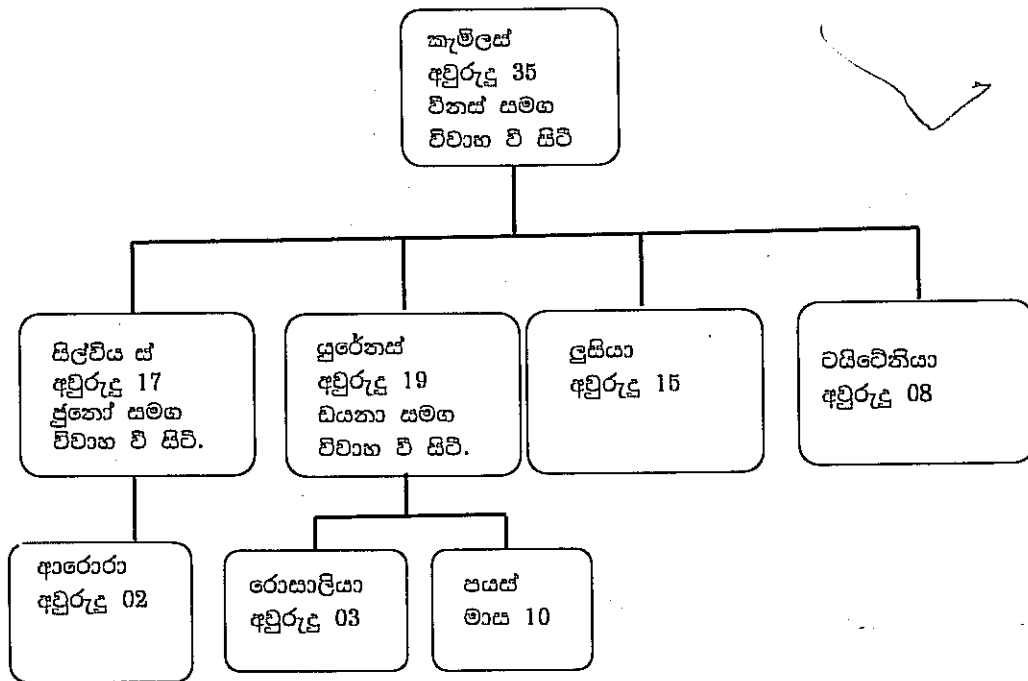
වේලාව: පෙ ව 9.30 සිට ප ව 12.30 දක්වා

අපැහැදිලි අත්අතුරුවලට ලක්වූ අඩු කරනු ලැබේ

1 වන හා 2 වන කොටසවලින් අඩු වශයෙන් ප්‍රශ්න දෙක බැගින් ප්‍රශ්න 5 කට පිළිතුරු සපයන්න.

1 වන කොටස - රෝම නීතිය

1. පහත සඳහන් කැමිලස් පවුලේ විස්තරය සැලකිල්ලට ගෙන දී ඇති ප්‍රශ්නවලට පිළිතුරු සපයන්න.



ස්වීය නෛතික (sui juris) රෝම වැසියකු වූ කැමිලස් 15 වන වියේ දී විනය සමග විවාහ විය. ඔහු සතු ව යම් දේපල තිබුණ ද වැරදි ආයෝජන හේතුවෙන් ඔහුගේ ධනයෙන් විශාල කොටසක් ඔහුට අහිමි විය. සිය පවුල තනිතනු කළ නොහැකි වූ හෙයින් ඔහු ටයිටේනියා ධනවත් වෙළෙන්දෙකුට විකිණීය. ඔහු ලුසියාට 40 වියැති ධනවතකු වූ පයස් සමග මානුස් විවාහයක් පිළියෙල කළේය. තමන්ට වඩා ඉතා වැඩි වයසේ පසුව තැනැත්තෙකු සමග විවාහ වීම සම්බන්ධයෙන් ලුසියා දැඩි විරෝධතාවක් දැක්වූව ද විවාහය සිදු කරන ලදී. ගොවියෙකු වූ යුරේනස් විසින් උපයන ලද මුදල් ලබාගත් කැමිලස් ගවයන් කිහිප දෙනෙක්

මිල දී ගත්තේය. මෙම ගවයන් රෝගාතුර වීම නිසා ඔවුන් මිල දී ගැනීම යුද්ධයේ විසින් කලින් ප්‍රතික්ෂේප කර තිබුණි. මිල දී ගෙන වික කලකට පසු ගවයෝ මිය ගියහ. අවසානයේ දී තමන්ට දරුවන් නොමැති හෙයින් 60 හැවිරිදි රෝම සුරවැසියෙකු වූ ඔහුටත් විසින් කැමිලස් පුත්‍රෝප්තියට පත් කර ගන්නා (adrogate) ලදී.

- i. ටයිටෙතියා, ලුසියා හා යුද්ධයේ සම්බන්ධයෙන් කැමිලස්ගේ ක්‍රියාවන්හි වලංගුභාවය සාකච්ඡා කරන්න.
- ii. කැමිලස්ව ඔහුටත් විසින් පුත්‍රෝප්තියට පත් කර ගැනීමෙන් පසු කැමිලස් විසින් මෙම ක්‍රියාවන් සිදු කළේ නම් ඉහත (i) හි ඔබේ පිළිතුර වෙනස් වන්නේ දැයි පැහැදිලි කරන්න.
- iii. පුත්‍රෝප්තියට පත් කර ගැනීම ඉහත සටහනේ පෙන්වා ඇති කැමිලස්ගේ පවුලේ එක් එක් සාමාජිකයාට බලපාන ආකාරය පැහැදිලි කරන්න.

2. පහත සඳහන් ප්‍රකාශවලින් කවර හෝ දෙකක් පිළිබඳව සාකච්ඡා කරන්න.

- (i) ස්වයං නෛතික වයෝපූර්ණ නොවූ තැනැත්තන්ගේ (sui juris impubes) හා බාලවයස්කරුවන්ගේ අයිතිවාසිකම් ආරක්ෂා කිරීම සඳහා රෝම නීතියේ යාන්ත්‍රණයන් අඩංගු විය.
- (ii) පවුලේ සාමාජිකයන්ට ප්‍රමාණවත් ලෙස ප්‍රතිපාදන සලසන බවට අනුප්‍රාප්තිය පිළිබඳ රෝම නීතිය විසින් සහතික කරන ලදී.
- (iii) නීතිය සංග්‍රහගත කිරීමේ දී ජස්ටිනියන් අධිරාජ්‍යා වැදගත් කාර්ය භාරයක් ඉටු කළේය.
- (iv) පරවශතා මගින් අත්‍යයන්ගේ දේපල හානි විදීමේ අයිතියක් ඒවායේ හිමිකරුවන් නොවන අයට ලබා දෙන ලද නමුදු හිමිකරුවන්ගේ අයිතිවාසිකම් ආරක්ෂා කිරීම සඳහා පරවශතා අයිතිවාසිකම්වලට සීමාවන් පණවන ලදී.

3. ලොතාරියෝ හා ඔහුගේ බිරිය වූ ජූලියට් ලොතාරියෝට පියාගෙන් උරුම වූ ඉඩමක ඵලවලු වගා කිරීමේ ව්‍යාපාරයක් ආරම්භ කළහ. ව්‍යාපාරය සරුසාර වූ බැවින් ඉඩම ඵලවලු වර්ග රාශියකින් පිරි ගියේය.

දිනක් අසල්වැසියෙකු වූ තාර්සිනා වත්තට ඇතුළු වී ඵලවලු සොරකම්කොට ඒවායින් අවිචාරු හා වටිනි සාදා විකිණීම සඳහා වෙළඳපොළට ගෙනයයි. ඇයව වෙළඳපොළේ දී දකින ජූලියට් ඇගෙන් මේ පිළිබඳව ප්‍රශ්න කරයි. තාර්සිනා මෙසේ කියමින් ජූලියට්ට අපහාස කරයි. “වටිනි සැදීමට මම නුඹේ ඵලවලු ගත්තහම මොක ද වෙන්නේ? උඹ හැඳුවොත් ඒවා කන්න බැරි වේවි. කාටවත් වැඩක් නැතිවේවි. උඹේ බල්ලා පවා උඹ උයන කෑම කන්න බැරි නිසා අපේ ගෙදර එනවා කෑම කන්න.” ඉන්පසු ඇය ගල්කැට කිහිපයක් අනුලා එයින් ජූලියට්ට පහර දීම නිසා ජූලියට්ගේ ඇසක් තුවාල වෙයි.

ආසන්න වනයේ මුවෝ හා හාවෝ ආහාර සොයා වත්තට පැමිණිවිට ලොතාරියෝ ඔවුන්ට උගුල් අටවා අල්ලාගෙන ඔවුන්ව විකුණයි. ඔහුගේ අසල්වැසියා වන ෆ්ලෝරියන්ගේ ඵලවත් ද වත්තට පැමිණෙන අතර ලොතාරියෝ ඔවුන්ද අල්ලා ගනී. වගා කරන ලද ඉඩමෙන් කොටසක් ඔවුන්ගේ අසල්වැසියා වන රවුෆ්ට අයත් වන බව පසුව හෙළි වෙයි.

ඉහත කරුණුවලින් (ද්‍රව්‍ය පිළිබඳ නීතිය හා දිලික්ක නීතිය යටතේ) උද්ගත වන නෛතික ගැටලු සාකච්ඡා කරන්න.

4. රෝම ගිවිසුම් නීතිය විසින් පැහැදිලි වශයෙන් වර්ග කරන ලද ගිවිසුම් කාණ්ඩ වර්ධනය කරන ලදී. එකඟතා ගිවිසුම (*contracts consensu*) වැනි මෙම සමහර ගිවිසුම් අද පවා ශ්‍රී ලංකාවේ භාවිත කරන ගිවිසුම්වලට සමාන වේ. කෙසේ වුව ද කාණ්ඩ ගිවිසුම් (*contracts re*) අර්ධ ගිවිසුම් (*quasi contracts*) හා *negotiorum gestio* වැනි කාලයේ සමාජ අවශ්‍යතා නිරූපණය කරන සුවිශේෂී ලක්ෂණ අඩංගු සමහර ගිවිසුම් ද වේ.

- (i) එකඟතා ගිවිසුම (*contracts consensu*) ගිවිසුම් හා වර්ගමානයේ භාවිත කරන ගිවිසුම් අතර සමානතාව පැහැදිලි කරන්න.
- (ii) කාණ්ඩ ගිවිසුම් (*contracts re*) හා *negotiorum gestio* හි සුවිශේෂී ස්වභාවය විදහා දක්වමින් එම ගිවිසුම් පිළිබඳව සාකච්ඡා කරන්න.

2 වන කොටස - නීති ක්‍රම

5. මාස 8 ක විවාහ දිවියක් ගත කළ දහනව හැවිරිදි තරුණ බිරිඳක් සිය මියගිය සැමියාගේ ආදාහන විතකය මත ගින්නෙන් දැවී ගියවිට රාජා ප්‍රදේශ් නම් කුඩා ග්‍රාමය කෙරෙහි සියලු දෙනාගේ අවධානය යොමු විය. තම දිවි තොර කර ගැනීම සඳහා කන්‍යාගේ අධිස්ථානය ග්‍රාමයේ ආගමික නායකයන් හා වැඩිහිටියන් විසින් පරීක්ෂාවට භාජනය කරන ලදී. සම්ප්‍රදායික ඇඳුමින් හා මනාලයක සේ සැරසී සිය හස්තයෙහි පොල් ගෙඩියක් උගෙන යමින් ඇය සිය සැමියාගේ දෙන පසුපස ආදාහන ස්ථානය කරා ගමන් කළාය. ආදාහන විතකය සුදානම් කරන අතරතුර ඇය ස්ත්‍රෝත්‍ර ගායන කළාය. සිය සැමියාගේ හිස තම උකුළ මත තබාගෙන විතකයෙහි වාඩි වී සිටි ඇය විතකයට ගිනි දැල්වූ පසු ගින්නෙන් දැවී මිය ගියාය. ශුද්ධෝක්සවය තැරඹීම සඳහා උස්වී සිටි ගම්වැසියන් විසින් පොලිසියේ මැදිහත්වීම වලක්වන ලදී.

මෙවැනි භාර්යාව ගින්නෙන් දැවී යාමේ උත්සවයක් තම ළමා වියේ දී දුටු බව ගමේ 90 හැවිරිදි කාන්තාවක වූ කමලා පැවසුවාය. තවත් එවැනි භාර්යාවක් අනුස්මරණය කිරීම සඳහා ඉදි කරන ලද කෝවිලක් පෙන්නු 85 හැවිරිදි ගම්වැසියෙකු වූ බාලා, යාඥා කිරීම හා පූජා පැවැත්වීම සඳහා බොහෝ ජනතාව එහි පැමිණෙන බව පැවසීය. සිය සැමියාගේ විතකය මත මිය යාම තෝරා ගනිමින් සිය සැමියාගේ වෙනුවෙන් දැක්විය හැකි උපරිම ප්‍රේමය විදහා දැක්වූ සිය ගමේ පසුගිය සියවස් ගණනාවක කාන්තාවන්ගේ ප්‍රතිමා හෙවත් විර ප්‍රතිමා මඟු විසින් පෙන්නවා දෙන ලදී. කන්‍යාගේ ක්‍රියාව අගය කරමින් කථා කළ 18 හැවිරිදි ප්‍රකාශ් පැවසුවේ එවැනි මනාලියක් තමාට ලැබුනහොත් එය වාසනාවක් බවයි. කන්‍යාගේ ආදාහන ස්ථානයේ කෝවිලක් ඉදි කිරීමට හා වාරිත්‍ර හා උත්සව පැවැත්වීමට තමන් අදහස් කරන බව ගම්මු පැවසූහ.

රාජා ප්‍රදේශ්හි දේශීය සිරිතක් වශයෙන් මෙම භාවිතාවේ වලංගුභාවය සාකච්ඡා කරන්න.

6. පහත සඳහන් ප්‍රකාශවලින් ඕනෑම දෙකක වලංගුභාවය සාකච්ඡා කරන්න.

- (i) රටක නීති සමාජ අවශ්‍යතාවන්ට ගැලපෙන අයුරින් නිඛිම සහතික කිරීමේ දී ව්‍යවස්ථා වැදගත් කාර්ය භාරයක් ඉටු කරයි.
- (ii) ශ්‍රී ලංකාවේ සාධාරණත්වය කෙරෙහි බලපාන එකම නීතිය වන්නේ සාධාරණත්වය පිළිබඳ ඉංග්‍රීසි නීතියයි.

- (iii) පදානුගත රීතියට වඩා අතර්ථ රීතිය, තීතිය පිළිබඳ සාධාරණ අර්ථ තීරුපණයක් සහතික කරයි.
- (iv) වෙනස්කොට දැක්වීම (distinguishing) සාකච්ඡාවට ලක් වී ඇති තනුවේ තීන්දුවේ තරය කෙරෙහි බලනොපාන බැවින් පහළ අධිකරණයක විනිශ්චයකාරවරයෙකුට අධිකරණය කිරීම වඩාත් ප්‍රයෝජනවත් උපක්‍රමයක් විය හැකිය.

7.

විමෝක්‍ෂාචාර්ය වූ කලී පාර්ලිමේන්තු මැතිවරණයකට සුදානම් වන රටකි. 1985 දී සම්මත කර ගන්නා ලද විමෝක්‍ෂාචාර්ය මැතිවරණ පනතේ 5 වැනි වගන්තිය මෙසේ සඳහන් කරයි. “මැතිවරණ සමයේ දී අපේක්ෂකයන්ට සහය දැක්වීම සඳහා කිසිම පුද්ගලයකු විසින් පෝස්ටර් බැනර් කොඩි හෝ වෙනත් ප්‍රචාරක ද්‍රව්‍ය භාවිත නොකළ යුතුය.”

ලග එන මැතිවරණය සඳහා ඉදිරිපත් වන අපේක්ෂකයෙකු වූ මෙල්වින් සිය රූපය තගරයේ තාප්පවල සහ මාර්ගවල ඇදීම සඳහා කලාකරුවන් කණ්ඩායමක් යෙදවීය. සමතලයාගේ ලකුණ යටතේ තරග කරන සහ සමතලයා තම් වික්‍රමයේ අධ්‍යක්ෂකවරයා හා ප්‍රධාන නළුවා වූ වමින්ද සිය වික්‍රමයෙන් ලබා ගත් තමාගේ ජායාරූප තගරයේ තාප්පවල ඇලවීමටත් මැතිවරණය පවත්වන සතියේම පුද්ගලයා ආරම්භ කිරීමට නියමිත වික්‍රමයට ප්‍රසිද්ධියක් ලබා දීමටත් සිය ආධාරකරුවන් යොදා ගනී.

මැතිවරණ පනතේ 5 වන වගන්තිය යටතේ මෙල්වින්ට හා වමින්දට එරෙහිව චෝදනා නගා ඇත .

- (i) ඔබේ මතය අනුව මෙල්වින් හා වමින්ද පණත යටතේ වැරදිකරුවන් වීමට ඉඩකඩ තිබේ ද? ඔබේ පිළිතුර පැහැදිලි කරන්න.
- (ii) ජාත්‍යන්තර වික්‍රමවල තර්ජනයට ලක් වූ දේශීය සිතමා කර්මාන්තය ආරක්ෂා කිරීම සඳහා රජය විසින් දේශීය වික්‍රමවල පෝස්ටර් ඇලවීම දිරිමත් කළ සිතමා කර්මාන්තය ප්‍රවර්ධනය කිරීමේ පණත 1980 දී සම්මතකොට තිබුණේ නම් ඉහත (i) හි වමින්ද පිළිබඳ ඔබේ පිළිතුර වෙනස් වන්නේ ද?

ඔබේ පිළිතුර සනාථ කිරීම සඳහා ව්‍යවස්ථා අර්ථනිරූපණය පිළිබඳව අදාළ වන රීති සහ පූර්ව නිගමන හා නඩු තීරණ යොදා ගැනීම ඔබෙන් අපේක්ෂා කෙරේ.

8.

“අධිකරණ පූර්ව නිදර්ශන න්‍යායේ වාසි හා අවාසි ප්‍රවේශමෙන් සමබර කළහොත් එය රටේ වැදගත් තීති මූලාශ්‍රයක් ලෙස ක්‍රියාත්මක විය හැකිය. කෙසේ වුව ද අපේ අධිකරණ ව්‍යුහයෙහි නිරන්තරයෙන් සිදු වන වෙනස්කම් හේතුකොටගෙන තමන් බැඳෙනුයේ කවර තීරණවලින්ද යන්න හඳුනා ගැනීමේ අතිරේක අභියෝගයට මුහුණ දීමට ලංකාවේ විනිසුරන්ට සිදු වේ.”

ඉහත ප්‍රකාශය විවේචනාත්මකව විග්‍රහ කරන්න.

හිමිකම් ඇවිරිණි

THE OPEN UNIVERSITY OF SRI LANKA
 LL.B. DEGREE PROGRAMME – LEVEL 3
 FINAL EXAMINATION 2009/2010
 LEGAL METHOD– LWU 1412
 DURATION - 3 HOURS



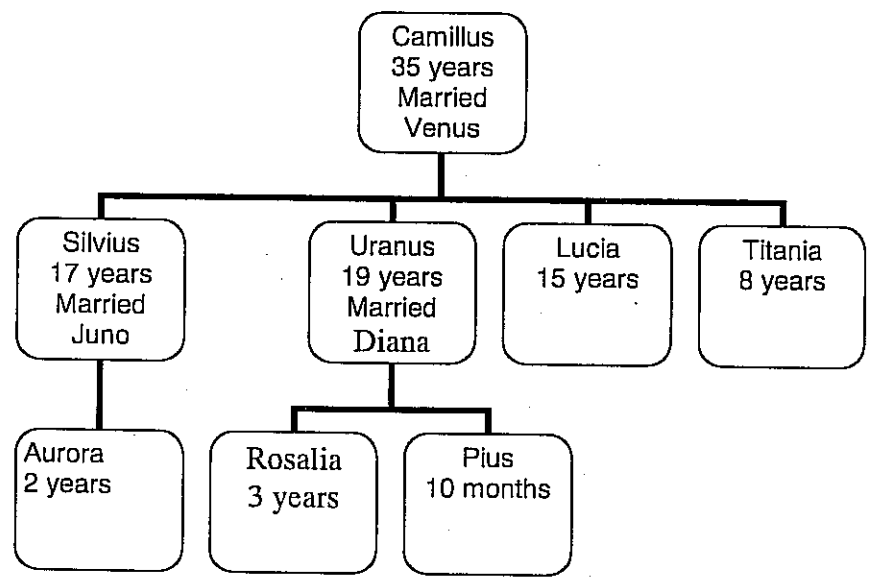
 Date: 28th March 2010 Time: 9.30 a.m. -12.30 p.m.

Students will be penalized for illegible handwriting

Answer 5 questions only with at least two questions each from parts 1 and 2

PART 1– ROMAN LAW

1. Consider the outline of the Camillus family given below and answer the given questions.



Camillus a *sui juris* Roman citizen married Venus at the age of 15. Although he had some property he made many bad investments and lost most of his wealth. As he was unable to support his family, he sold Titania to a wealthy merchant. He arranged a manus marriage for Lucia with Pius who was a rich man of 40 years. The marriage took place even though Lucia was very much against marrying a man so much older than her. Camillus took the money earned by Uranus who was a farmer and bought some cattle which Uranus had previously decided not to buy as they were diseased. The cattle died shortly after purchase. Finally Augustus, a 60 year old wealthy Roman citizen, adopted Camillus, as he had no children.

- i Discuss the validity of the Camillus' actions regarding Titania, Lucia and Uranus
(9 marks)
- ii Explain if your answer in (a) above, would be different if Camillus had done the acts mentioned, after he was adrogated by Augustus.
(3 marks)
- iii Explain the effect of the adrogation, on each member of the Camillus family shown in the diagram above.
(8 marks)

2 Discuss any **TWO** of the following statements

- i. Roman law contained mechanisms to protect the interests of *sui juris impubes* and minors.
- ii. The Roman law of succession ensured that family members were adequately provided for.
- iii. Emperor Justinian played a significant role in codifying the law.
- iv. While servitudes entitled non-owners to enjoy the property of others, limitations were placed on these rights in the interest of the owners.

(10 marks each)

3 Lothario and his wife Juliet start a business cultivating vegetables on a land inherited from Lothario's father. The business prospers so that the land is soon full of many vegetables.

One night Narcissa a neighbour enters the garden and steals some of the vegetables from which she makes pickles and chutneys which she takes to the market to sell. Juliet sees her in the market and confronts her. Narcissa insults Juliet saying, 'why shouldn't I use your vegetables to make chutneys; if you do so they will be inedible and useless to anyone. Even your dog comes to our place to eat since it cannot eat your food'. She then picks up some stones and throws them at Juliet injuring her in the eye.

Many deer and rabbits from the adjacent jungle start coming to the garden in search of food and Lothario traps them and sells them. His neighbour Florian's goats also enter the garden and he catches them as well. Later it is discovered that part of the land cultivated belongs to their neighbour Rufus.

Discuss the legal issues (under the law of things and delict) arising from the above facts.
(20 marks)

4 The Roman law of contract developed clearly categorized groups of contract. Some of these contracts such as *contracts consensu* are similar to those used widely in Sri Lanka even today. However there were also certain contracts which had unique features such as *contracts re* and *quasi contracts* such as *negotiorum gestio* which reflected the social needs of the time.

- i. Explain the similarity between *contracts consensu* and the contracts widely in use today. (5 marks)
- ii. Discuss *contracts re* and *negotiorum gestio* highlighting their unique nature. (15 marks)

PART 2 –LEGAL METHOD

5 The little village of Raja Pradesh became the centre of attention when a 19 year old bride of 8 months was set ablaze on the funeral pyre of her husband. Kanya, had been tested on her resolve to kill herself, by holy men and village elders. Then dressed in traditional clothes and bridal make up and carrying a coconut in her hand she walked behind the body of her husband to the cremation site. She chanted prayers while the funeral pyre was being prepared and then sat upon it with her husband's head in her lap and was burnt to death when the pyre was set alight. Police were prevented from intervening by the villagers who had gathered to witness this 'holy ceremony'.

90 year old Kamala, a villager recalled attending a similar wife burning ceremony as a child. Bala an 85 year old villager pointed out a temple built in memory of another such wife where many people came to pray and make offerings. He also pointed out 'hero stones' or statues depicting other village women of the past centuries who he said had displayed the highest level of love for their husbands by choosing to die on their funeral pyres. Prakash an 18 year old youth expressed admiration at Kanya's act saying he hoped he would be lucky enough to find such a bride himself. The villagers declared their intention of building a temple and conducting rituals and ceremonies at Kanya's funeral site.

Discuss the validity of this practice of Raja Pradesh as a local custom.

(20 marks)

6 Discuss the validity of any **TWO** of the following statements

- i. legislation plays an important role in ensuring that the laws of a country are in line with social needs.
- ii. The English law of equity is the exclusive law governing equity in Sri Lanka.

- iii. The mischief rule ensures a more just interpretation of the law than the literal rule.
- iv. Since distinguishing does not affect the ratio of the case under discussion, overruling is a more useful technique for a judge in a lower court.

(10 marks each)

7 Democratica is a country preparing for parliamentary elections. Section 5 of the Elections Act of Democratica passed in 1985 states as follows; 'No person shall use posters, banners, flags or other propaganda material to promote candidates during the election'.

Melvin, a candidate for the upcoming, election, engaged a group of artists to paint his picture on the city walls, and across the roads. Chaminda, who is contesting under the butterfly symbol and had also directed and starred as the main actor in the film 'Butterfly' got his supporters to cover all the city walls with pictures of him taken from the movie and advertising the film, which was to be screened the same week as the election. Melvin and Chaminda are charged under Section 5 of the Election Act

- i. In your opinion are Melvin and Chaminda likely to be found guilty under the Act? Explain your answer. (12 Marks)
- ii. Would your answer regarding Chaminda in (i) above be different if The Promotion of The Film Industry Act had been passed in 1980 by which putting up of posters of local films is encouraged by the state to protect the local film industry threatened by the international film industry? (8 Marks)

You are expected to use applicable rules and presumptions of statutory interpretation and case law to support your answer.

8 'If the advantages and disadvantages of the doctrine of judicial precedent are carefully balanced it can operate as a significant source of law in a country. The Sri Lankan judge however is also confronted with the additional challenge of identifying which decisions are binding upon him/her due to the constant changes which have taken place in our court structure.'

Critically analyze the above statement.

(20 marks)

-Copyright reserved -

இலங்கை திறந்த பல்கலைக்கழகம்
சட்டமாணிப் பட்டப்படிப்புத் திட்டம்
மட்டம் 03

இறுதிப் பரீட்சை - - 2009/2010

LWU 1412 - சட்டமுறைமை

காலம்: மூன்று(03) மணித்தியாலங்கள்



திகதி: 28.03.2010

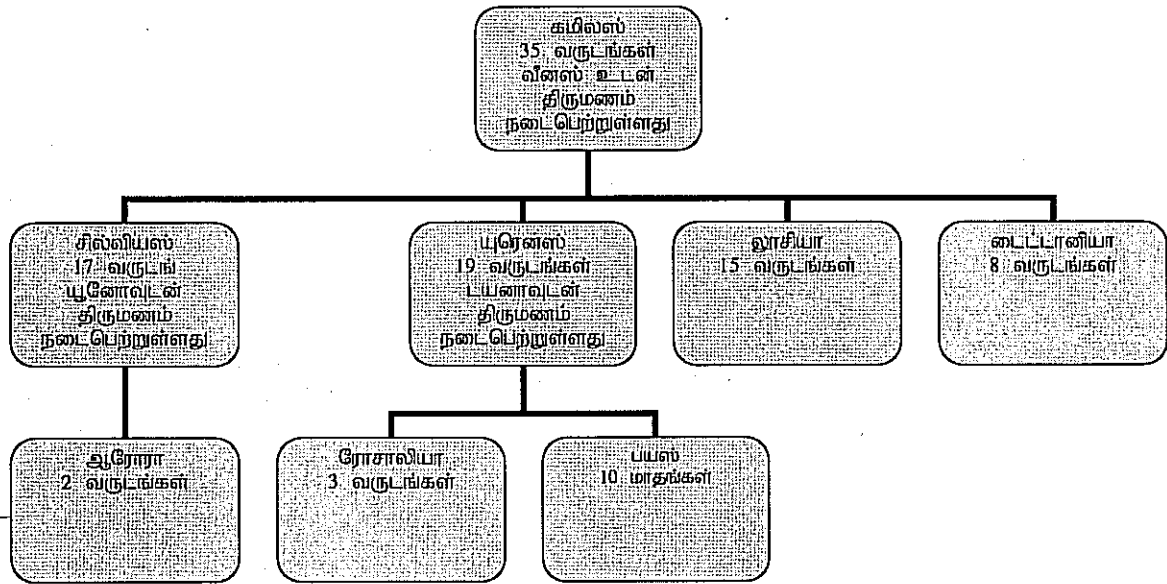
நேரம்: மு.ப 9.30 - பி.ப 12.30

ஒவ்வொரு பகுதியிலும் இருந்து குறைந்தது இரண்டு வினாக்களை தெரிவு செய்து எல்லாமாக ஐந்து வினாக்களுக்கு விடை தருக.

தெளிவற்ற கையெழுத்துக்களுக்காக பரீட்சார்த்திகளுக்கு புள்ளிகள் குறைக்கப்படும்.

பகுதி I - உரோமன் சட்டம்

1. கீழே தரப்பட்டுள்ள கமிலஸ் உடைய குடும்ப கட்டமைப்பை கருத்தில் கொண்டு தரப்பட்ட வினாக்களுக்கு விடை தருக.



முழு உரிமையுடைய (*sui juris*) உரோம பிரஜையான கமிலஸ் என்பவன் வீனஸ் என்பவளை தனது 15 வது வயதில் திருமணம் செய்தான். அவன் சில ஆதனங்களை தன்னகத்தே கொண்டிருந்த போதிலும் பல குறைபாடுள்ள முதலீடுகளை மேற்கொண்டு தன்னுடைய செல்வத்தின் பெரும்பகுதியை இழந்தான். தனது குடும்பத்தை பராமரிக்க இயலாத அவன் செல்வந்த வணிகன் ஒருவனுக்கு டைட்டானியாவை விற்றான். 40 வயதுடைய பணக்கார மனிதனான பயஸ் என்பவனுடன் லூசியாவிடம் மானுஸ் விவாகம் ஒன்றை செய்து கொடுத்தான். தன்னைவிட வயதில் மிக மூத்த மனிதனை விவாகம் செய்ய லூசியா மறுப்பு தெரிவித்த போதிலும் விவாகம் நடைபெற்றது. விவசாயி ஒருவனான யுரெனஸ் மூலம் சம்பாதிக்கப்பட்ட பணத்தை கமிலஸ் எடுத்துக்கொண்டதுடன் அதனை பயன்படுத்தி சில கால்நடைகளை வாங்கினான். குறிப்பிட்ட கால்நடைகளுக்கு நோய்

பிடித்திருந்ததன் காரணமாக அவற்றை வாங்குவதில்லை என யூரெனஸ் முன்பு தீர்மானித்திருந்தான். கொள்வனவை அடுத்து சில நாட்களில் கால்நடைகள் இறந்தன. இறுதியாக 60 வயதுடைய பிள்ளைகள் அற்ற பணக்கார உரோம பிரஜையான ஓகஸ்டஸ், கமிலஸ்சை குலவேற்பு(adrogate) செய்தான்.

i. டைட்டானியா, லூசியா மற்றும் யூரெனஸ் ஆகியோர் தொடர்பாக கமிலஸ் மேற்கொண்ட நடவடிக்கைகளின் வலிதுடமையை ஆராய்க.

(09 புள்ளிகள்)

ii. ஓகஸ்டஸ்சினால், கமிலஸ் குலவேற்கப்பட்ட பின்பு மேலே (i) வில் சொல்லப்பட்ட விடயங்களை கமிலஸ் மேற்கொண்டு இருந்தால் உமது விடை வேறுபடுமா.

(03 புள்ளிகள்)

iii. குலவேற்பினால் மேலே தரப்பட்டுள்ள வரைபடத்தில் காட்டப்பட்டுள்ள கமிலஸ் உடைய குடும்பத்தில் ஒவ்வொரு உறுப்பினர் மீதும் ஏற்படும் விளைவுகளை விளக்குக.

(08 புள்ளிகள்)

2. பின்வருவனவற்றுள் எதேனும் இரண்டு கூற்றுக்களை ஆராய்க.

i. உரோமன் சட்டம் முழு உரிமையுடைய இளங்கனர் (*sui juris impubes*), சிற்றகவையர் (*minors*) ஆகியோருடைய அக்கறைகளை பாதுகாக்கும் பொறிமுறைகளை கொண்டுள்ளது.

ii. வழியுரிமை தொடர்பாக குடும்ப உறுப்பினர்களுக்கு போதுமான அளவில் ஏற்பாடுகளை கொண்டுள்ளது என்பதை உரோமன் சட்டம் உறுதிப்படுத்துகின்றது.

iii. சட்டத்தை கோவைப்படுத்துவதில் யஸ்டீனியன் பேரரசன் முக்கிய பங்கை வகித்தான்.

iv. சேவகம், சொந்தமற்றவர்களுக்கு ஏனையோருடைய ஆதனத்தில் அனுபவிக்கும் உரிமையை வழங்கியுள்ள அதே வேளை சொந்தக்காரர்களுடைய நலன் கருதி இவ்வுரிமைகள் மீது மட்டுப்பாடுகள் இடப்பட்டுள்ளன.

3. லதோரியாவும் அவனுடைய மனைவி யூலியட்டும் லதோரியாவுடைய தந்தையிடம் இருந்து மரபுரிமையாக பெற்ற காணியில் மரக்கறி பயிர்ச்செய்கை வியாபாரம் ஒன்றை ஆரம்பித்தனர். வியாபாரம் வளம் பெற்றதுடன் நிலம் பூராக காய்கறிகள் நிரம்பி இருந்தன.

ஒருநாள் இரவு அயலவரான நாகிஸா தோட்டத்திற்குள் நுழைந்து சில காய்கறிகளை திருடியதுடன் அவற்றிலிருந்து ஊறுகாய் மற்றும் சட்னி என்பவற்றை தயாரித்து விற்பனைக்காக சந்தைக்கு எடுத்துச்சொன்றாள். சந்தையில் வைத்து யூலியட் அவளைக்கண்டு இதற்கு எதிர்ப்பு தெரிவித்தான். நாகிஸா யூலியட்டை பின்வருமாறு கூறி இகழ்ச்சி படுத்தினாள் "ஏன் நான் உன்னுடைய காய்கறிகளை சட்னி தயாரிப்பதற்காக பயன்படுத்தக்கூடாது; நீ அவ்வாறு செய்தால் அவை எவருக்கும் உண்ண உகந்ததல்லாததாகவும் பாவனைக்கு உதவாமலும் போய்விடும். உன்னுடைய உணவை உண்ண முடியாமலேயே உனது நாய்கூட உணவிற்காக என்னுடைய இடத்தைத் தேடி வருகிறது". மேலும் அவள் சில கற்களைப் பொறுக்கி யூலியட் மீது எறிந்து அவளுடைய கண்ணை காயப்படுத்தினாள்.

அண்டைய காட்டில் இருந்து மான்களும், முயல்களும் உணவு தேடி தோட்டத்திற்குள் வரத்தொடங்கியதுடன் லதோரியா அவற்றைப் பிடித்து விற்பாள். அவனுடைய அயலவன் புளொரியனுடைய ஆடுகளும் தோட்டத்திற்குள் நுழைந்தன. லதோரியா அவற்றையும் பிடித்து விற்பாள். அவர்கள் விவசாயம் செய்து வந்த காணியின் ஒரு பகுதி அயலவனான ரூபஸிற்கு சொந்தமானதென பின்னர் கண்டு பிடிக்கப்பட்டது.

மேலே தரப்பட்ட நிகழ்வுகளில் இருந்து எழும் சட்ட வினாக்களை (பொருட்கள் சட்டம் மற்றும் தீங்கியல் சட்டத்தின் கீழ்) ஆராய்க.

4. ஒப்பந்தம் தொடர்பான உரோமன் சட்டம், ஒப்பந்த வகைகளை தெளிவாக வகைப்படுத்தியுள்ளது. இவற்றில் உடன்பாட்டுடன் செய்யப்பட்ட ஒப்பந்தங்கள், இன்று இலங்கையில் பரவலாக பயன்படுத்தப்பட்டு வருகின்ற ஒப்பந்தங்களை ஒத்ததாகும். எவ்வாறாயினும், பொருட்கள் தொடர்பான ஒப்பந்தம், (*contracts re*) மருவிய ஒப்பந்தங்கள், *negotiorum gestio* போன்ற குறிப்பிட்ட சந்தர்ப்பத்தில் சமூக தேவைகளை பிரதிபலிக்கின்ற சில தனித்துவமான பண்புகளைக் கொண்ட ஒப்பந்தங்களும் உள்ளன.

i. உடன்பாட்டுடனான ஒப்பந்தங்கள் மற்றும் இலங்கையில் இன்று பரவலாக பயன்படுத்தப்பட்டு வரும் ஒப்பந்தங்கள் ஆகியவற்றிற்கிடையிலான ஒற்றுமைகளை விளக்குக.

ii. பொருட்கள் தொடர்பான ஒப்பந்தம் மற்றும் *negotiorum gestio* என்பவற்றின் தனித்துவ இயல்பை எடுத்துக்காட்டி அவற்றை ஆராய்க.

(05 புள்ளிகள்)

(15 புள்ளிகள்)

பகுதி II - சட்டமுறைமை

5. ராஜா பிரதேசம் என அழைக்கப்படும் ஒரு சிறிய கிராமம் 19 வயதுடைய பெண்ணும் 8 மாதங்கள் பூர்த்தியுற்ற மணப்பெண் ஒருத்தி தனது கணவனுடைய ஈமச்சிதையில் தீயிட்டு கொழுத்திய சம்பவத்தினால் அனைவருடைய கவனத்தையும் ஈர்த்தது. கன்யா, தன்னைத்தானே சாகடித்துக்கொள்வதற்கான தயார் நிலையில் உள்ளாள் என்பதை கிராமத்தைச் சார்ந்த முதியவர்களும் பரிசுத்தமான ஆண்களும் பரீட்சித்தனர். அவள் பாரம்பரிய உடைகளை அணிந்து மணப்பெண்ணுக்குரிய அலங்காரங்களை மேற்கொண்டு கையிலே தேங்காய் ஒன்றை ஏந்திய வண்ணம் கணவனுடைய பூதவுடலுக்கு பின்னால் ஈமைக்கிரியைகள் நடைபெறும் இடத்திற்கு நடந்து சென்றாள். அவள் ஈமைச்சிதைக்கு தீயூட்ட தயாராகிய போது மந்திரங்களை ஓதியதுடன் அவள் கிழே அமர்ந்து தன்னுடைய கணவனின் தலையை மடியிலே வைத்த போது அவள் தீயூட்டி கொளுத்தப்பட்டாள். குறிப்பிட்ட "புனித சடங்கை" பார்வையிட்டுக் கொண்டிருந்த பார்வையாளர்கள் பொலிஸார் தலையிடுவதை தடைசெய்தனர்.

90 வயது நிரம்பிய கமலா என்ற கிராமத்தவள் தான் சிறுமியாக இருந்த போது இவ்வாறாக மனைவியை எரிக்கும் நிகழ்வொன்றில் சமூகம் அளித்ததாக நினைவுபடுத்தினாள். பாலா என்ற 85 வயது மதிக்கத்தக்க கிராமத்தவர் இவ்வாறு இன்னுமொரு மனைவிக்காக கட்டப்பட்ட கோயில் ஒன்றை காட்டி அங்கு பலர் சென்று வணங்குவதுடன் நிவேதனங்களையும் படைப்பதாக குறிப்பிட்டார். மேலும் கடந்த நூற்றாண்டுகளில் இவ்வாறு ஈமைச்சிதையிலே இறந்த பெண்கள் தன்னுடைய கணவன் மீது அளவு கடந்த அன்பை வெளிப்படுத்தியதற்காக ஏனைய கிராமங்களில் வீரத் தூபிகளும் நினைவுச் சின்னங்களும் கட்டப்பட்டுள்ளதாக குறிப்பிட்டார். 18 வயது நிரம்பிய பிரகாஷ் என்ற இளைஞன் கன்யாவினுடைய செயலைப் பாராட்டி தனக்கும் இவ்வாறான மணப்பெண்ணை பெற்றுக்கொள்ள இயலுமாக இருந்தால் அது தனது பாக்கியமெனவும் குறிப்பிட்டான். கன்யாவுடைய ஈமைக்கிரிகைகள் நடைபெற்ற இடத்தில் கோயில் ஒன்றைக் கட்டி நிகழ்வுகளையும் சம்பிரதாயங்களையும் நடத்துவதற்குரிய தமது எண்ணத்தை கிராமத்தவர்கள் வெளிப்படுத்தினர்.

இராஜா பிரதேசத்தில் உள்ளூர் வழக்காறு ஒன்றாக இருக்கின்ற இந்த நடைமுறையின் வலிதான தன்மையை ஆராய்க.

6. கீழே தரப்பட்டுள்ள கூற்றுக்களில் ஏதேனும் இரண்டினது வலிதான தன்மையை ஆராய்க.

- நாட்டினுடைய சட்டம் சமூகத்தேவைகளோடு ஒன்றியிருத்தலை உறுதிப்படுத்துவதில் சட்டவாக்கம் முக்கிய இடத்தை வகிக்கிறது.
- ஆங்கில ஒப்பரவு சட்டம் இலங்கையின் ஒப்பரவை ஆளுவதில் பிரத்தியேக சட்டமாகும்.

- iii. சொற்பொருள் சார் விதியைவிட தீங்கு விதி அதி கூடிய நியாயமான பொருள் கோடலை உறுதிப்படுத்துகின்றது.
- iv. ஆராய்வொன்றிற்கு உட்பட்ட வழக்கொன்றில் வேறுபடுத்திக் காட்டுதல்(distinguishing) தீர்ப்பு நியாயம்(ratio) ஒன்றை பாதிக்காத காரணத்தினால் கீழ் நீதிமன்ற நீதிபதி ஒருவருக்கு வழக்கொன்றை புறத்தொதுக்குதல்(overruling) அதி பயன்கூடிய நுட்பம் ஒன்றாகும்.
7. டெமோக்கிரசியா என்ற நாடு பாராளுமன்ற தேர்தலுக்காக தயாராகிக்கொண்டு இருக்கின்றது. 1985ஆம் ஆண்டு ஆக்கப்பட்ட தேர்தல்கள் சட்டத்தில் பிரிவு 5 பின்வருமாறு குறிப்பிடுகிறது. “எந்த ஒரு நபரும் தேர்தலின் போது போட்டியாளர்களை ஊக்குவிப்பதற்காக சுவர் ஒட்டிகள், பதாதைகள், கொடிகள் அல்லது ஏனைய தேர்தல் பிரசார சாதனங்களை பயன்படுத்தல் கூடாது”

எதிர் வரும் தேர்தலில் நிற்கும் போட்டியாளரான மெல்வின் என்பவன் தன்னுடைய படத்தை நகரத்தில் இருக்கின்ற சுவர்களில் மற்றும் வீதிகளின் குறுக்காக வரைவதற்காக கலைஞர்கள் குழுவொன்றை ஈடுபடுத்தினான். வண்ணாத்திப்பூச்சி சின்னத்தில் போட்டியிடும் “வண்ணாத்திப்பூச்சி” பட இயக்குனரும் அதன் பிரதான நடிகருமான சமிந்த குறிப்பிட்ட படத்தில் இருந்து எடுக்கப்பட்ட புகைப்படங்களை நகரத்தில் இருந்த பெரும்பாலான சுவர்களில் ஒட்டி தனது படத்தை விளம்பரப்படுத்த தனது ஆதரவாளர்களின் உதவியை பெற்றுக்கொண்டான். குறிப்பிட்ட திரைப்படம் தேர்தல் நடைபெறும் அதே வரத்தில் திரையிடப்பட இருந்தது.

மெல்வின் மற்றும் சமிந்த ஆகியோர் தேர்தல்கள் சட்டம் பிரிவு 5 கீழ் குற்றம்சாட்டப்பட்டனர்.

- i. உமது கருத்தில் மெல்வின் மற்றும் சமிந்த ஆகியோர் குற்றவாளிகளாக காணப்பட வாய்ப்பு இருக்கின்றதென நீர் கருதுகின்றீரா? உமது விடையினை விளக்குக.
- (12 புள்ளிகள்)
- ii. திரைப்பட கைத்தொழிலை ஊக்குவிக்கும் சட்டம் 1980 ஆம் ஆண்டு ஆக்கப்பட்டு அச்சட்டம் சர்வதேச திரைப்பட கைத்தொழிலினால் அச்சுறுத்தலுக்கு உள்ளாகியுள்ள உள்ளூர் திரைப்பட கைத்தொழிலை பாதுகாப்பதற்காக உள்ளூர் திரைப்படங்களின் சுவர் ஒட்டிகளை ஒட்டுதல் அரசினால் ஊக்குவிக்கப்பட்டு இருந்தால் (i) இல் சமிந்தவுக்கு வழங்கப்பட்ட விடை வேறுபடுமா?
- (08 புள்ளிகள்)

உமது விடையை ஆதாரப்படுத்துவதற்கு நியதிச்சட்ட பொருள் கோடல் தொடர்பான இயைபான விதிகள், ஊகங்கள் மற்றும் தீர்ப்புச்சட்டம் ஆகியவற்றை பயன்படுத்துமாறு எதிர்பார்க்கப்படுகிறீர்.

8. “நீதிமுறை முற்தீர்ப்புக் கொள்கையின் நன்மைகளும் தீமைகளும் கவனமாக சமப்படுத்தப்பட்டால் இது ஒரு நாட்டினுடைய மிக முக்கியத்துவம் வாய்ந்த சட்டத்தோற்றுவாயாக செயற்படுத்தப்படும். எவ்வாறாயினும் எமது நீதிமன்ற அமைப்பில் ஏற்பட்டு வரும் பல்வேறு மாற்றங்கள் காரணமாக இலங்கை நீதிபதி எந்தத் தீர்ப்பினால் தான் பிணிக்கப்படுவார் என்பதை அடையாளம் காண்பதில் மேலும் ஒரு சவாலை எதிர் கொள்கின்றார்”

மேற் சொன்னக் கூற்றை நுணித்து பகுப்பாய்வு செய்க.

(பதிப்புரிமை பெற்றது)