

ශ්‍රී ලංකා විවිධ විශ්වවිද්‍යාලය

නීතිවේදී උපාධි පාඨමාලාව - 3 වන මට්ටම

අවසාන පරීක්ෂණය - 2011

නීති ක්‍රම - LWU 1412

කාලය - පැය තුනයි



දිනය : 2011 මාර්තු මස 28 දින

වේලාව: පෙ.ව. 9.30 සිට ප.ව 12.30 දක්වා.

අපහැදිලි අත්අකුරුවලට ලකුණු අඩු කරනු ලැබේ.

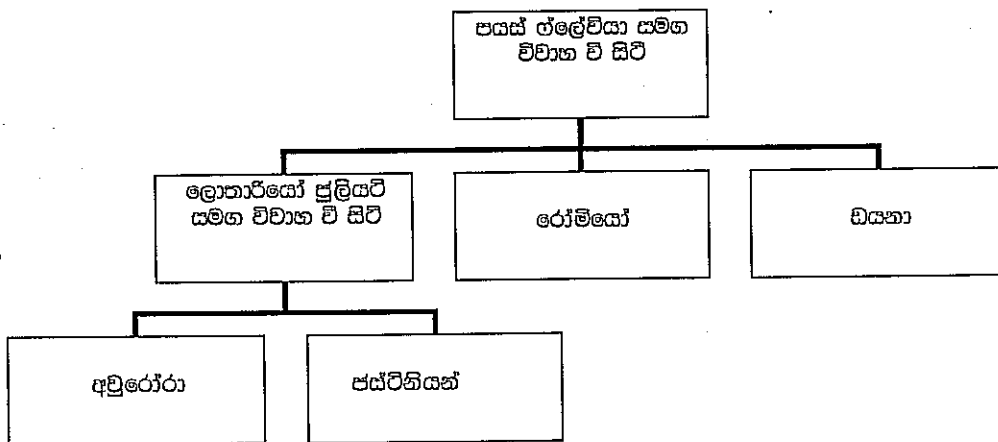
1 වන හා 2 වන කොටස්වලින් අඩු වශයෙන් ප්‍රශ්න දෙක බැගින් ප්‍රශ්න 5 කට පිළිතුරු සපයන්න.

1 වන කොටස - රෝම නීතිය

1. රෝම පවුලේ ප්‍රධානියාගේ බලතල සහ නූතන සමාජය තුළ මෙම බලතලවල යෝග්‍යභාවය පිළිබඳ ඔබේ මතය පැහැදිලි කරන්න.

(ලකුණු 20)

2. පයස් පවුලේ පහත සඳහන් විස්තරය සහ සාධක සැලකිල්ලට ගෙන දී ඇති ප්‍රශ්නවලට පිළිතුරු දෙන්න.



උදාහරණ ලෙස ගිලන් වන පයස් තම එකම නිමිකරුවා ලෙස ලොතාරියෝ පත් කරමින් අන්තිම කැමැති පත්‍රයක් සකස් කරයි. ඔහු තම ධනයෙන් තුනෙන් එකක් පමණ වන රෝමියෝ පිහිටි විශාල වත්තක් ලොතාරියෝට පවරා සමාන වටිනාකමකින් යුත් තවත් දේපලක් ඩයනාට පවරයි. දියමන්තියෙන් සැකසූ කාරාඞු පෝඬුවක් හා වලල්ලක් ගේලේවියාට ද අවුරෝරාට රන් පිළිමයක් ද අන්තිම කැමැති පත්‍රයෙන් පවරා දෙයි. සිය අසනීපයෙන් යුවස ලබන පයස් තවත් ධනය රැස් කරයි. වර්ෂ කිහිපයකට පසු ඔහු රෝමානු යුධ හමුදාවට බැඳී යුද්ධයට යාමට සූදානම් වෙයි. රෝම නගරයෙන් පිටත් වී යාමට පෙර පයස් තම සිතුවම් එකතුව සිය මිතුරා වූ පුලියස් වෙත උරුම කරමින්

කොට්ඨාසීය පත්‍රයක් සකස් කරයි. යුද්ධයේ දී පසක් මිය යයි. ලොකාර්යේ සිතුවම් ජූලියස්ට දීම ප්‍රතික්ෂේප කරන අතර ඩයනා අන්තිම කැමති පත්‍රය අවලංගු කිරීම සඳහා අසාධාරණ අන්තිම කැමති පත්‍රයකට එරෙහිව පවරන නඩුකරයක් (*querela in officiosi testamenti*) ගෙන ඒමට අදහස් කරයි.

(i) ඉහත සිද්ධි අනුසාරයෙන් පසක්ගේ දේපල බෙදෙන ආකාරය පැහැදිලි කරන්න.

(ලකුණු 10)

(ii) පසක් සිය අන්තිම කැමති පත්‍රය ලිවීමෙන් පසු ඔහුට තවත් දරුවකු සිටියේ නම් සහ පසක්ට පෙර ලොකාර්යේ මිය ගියේ යැයි සිතන්න. මෙම තත්ත්වය යටතේ පවුලේ සාමාජිකයන් අතර පසක්ගේ දේපල බෙදෙන ආකාරය පැහැදිලි කරන්න.

(ලකුණු 10)

3. රෝමානු ජීවන මූලිකයෙකු වූ ප්ලෝටියස් සිය දේපල තම පුත්‍රයන් වූ ඇක්වේරියස් හා සිල්වියස් අතර සමාන ලෙස බෙදා හරිමින් මිය ගියේය. ඉන්පසු ඉඩම *adjudicatio* මගින් බෙදෙන ලද අතර එකම ජල මූලාශ්‍රය ඇක්වේරියස්ගේ ඉඩමෙහි පිහිටා තිබූ හෙයින් වතුර ඇද ගැනීම සඳහා සිල්වියස්ට පරවශතාවක් ලබා දෙන ලදී. වසර ගණනාවකට පසු සිල්වියස් තම ඉඩම යථකස් කණ්ඩායමක විනිලකාරයෙකු වූ අඩ් තුනගමාරක් උස ටයිටස්ට විකිණීය. ටයිටස්ට තම ලිඳෙන් වතුර ඇද ගැනීමට ඉඩ දීම ඇක්වේරියස් විසින් ප්‍රතික්ෂේප කරනු ලබයි. දිනක් සිට ගවයන්ට පානය කිරීම පිණිස ජලය ලබා දීමට ටයිටස් ඇක්වේරියස්ගේ ඉඩමට පිවිසි විට එහි පැමිණි ඇක්වේරියස් මෙසේ කැ ගසා කීවේය 'පුංචි මිනිස්සු, පුංචි කකුල් තියාගෙන තමන්ගේ පුංචි ඉඩමට වෙලා හිටපල්ලා. එහෙම නොවුනොත් උන් ලොකු අමාරුවක වැටේවි' ඉන්පසු ඇක්වේරියස් හා ඔහුගේ වහල්ලු ටයිටස්ට හා ඔහුගේ සේවකයන්ට පහර දීමට පටන් ගත් විට ඔවුහු තම ගවයන් හා වතුර භාජන පසෙක දමා පැන ගියහ. ටයිටස්ගේ වහලුන් දෙදෙනෙකුගේ අත් කැඩී තිබූ අතර එක් වහලෙක් මිය ගියේය. ගවයින් වට කර ගත් ඇක්වේරියස් ඔවුන් තම ගවයන් සමඟ ගවගාලෙහි දැමීය. ඔහු හානි වී තිබූ වතුර භාජන ගෙන තම මල්වලට වතුර දැමීම සඳහා ඒවා යොදාගත්තේය. අනෙක් වතුර භාජන අලුතෙන් පින්තාරු කළ ඔහු ඒවා වසින් ගබඩා කර තැබීම සඳහා යොදා ගත්තේය.

දේපල හා දිලික්ක නීතිය යටතේ ඉහත සිදුවීම්වලින් හටගන්නා නෛතික ගැටලු සාකච්ඡා කරන්න.

4. පහත සඳහන් ඒවායින් ඕනෑම දෙකක සංකල්ප සංසන්දනය හා විභේදනය කරන්න

- (i) *ius scriptum* සහ *ius non scriptum*
- (ii) *Contracts re* සහ *contracts verbis*
- (iii) *Tutela* සහ *cura*
- (iv) *Adoptio* සහ *adrogatio*

(එකකට ලකුණු 10 බැගින්)

දෙවන - කොටස නීති ක්‍රම

- 5. ඩොංගු උණ රෝගය හේතුකොටගෙන මරණ ඉහළ යාම නිසා පාර්ලිමේන්තුව විසින් 2007 අංක 11 දරණ මදුරුවන් බෝවීම වැළැක්වීමේ පණත සම්මත කර ගන්නා ලදී. ඩොංගු රෝගයට ඵරෙහි එන්නතක් නොමැති අතර රෝගය වැළැක්වීමේ එකම ක්‍රමය වන්නේ මදුරුවන් බෝවීම වැළැක්වීමයි. පණතේ 2 (අ) වගන්තිය අනුව තම වත්තේ 'ජලය එක්රැස් විය හැකි විවෘත ටින් බෝතල් පෙට්ටි පොල් කටු පොල් කෝමිඳ වසර් සහ වෙනත් ද්‍රව්‍ය හෝ භාජන ඉවත් කිරීම විනාශ කිරීම හෝ වෙනත් ආකාරයකින් ඉවත් කිරීම' සෑම භූමියකම අයිතිකරුගේ හෝ පදිංචි වී සිටින්නාගේ යුතුකම වේ.

මහනුවර නිවසක නිමිකරු වන රන්ජිත් සිය පුත් ප්‍රියන්ත වෙනුවෙන් සාදුසක් පවත්වා සාදුසෙන් පසු කුණු එළියට විසි කර දමයි. පසුදින මහජන සෞඛ්‍ය පරීක්ෂකවරයෙකු වූ මැල්කම් භූමිය පරීක්ෂා කිරීම සඳහා පැමිණෙයි. වත්තේ කුණුගොඩෙහි බීම බෝතල් හා අරක්කු බෝතල් මුඛි ඉවත ලිය හැකි ප්ලාස්ටික් ගෘහරජපු හා යෝගර්ට් කෝප්ප ඇති බව ඔහු දකී. මෙම ද්‍රව්‍ය කිසිවක් පණතේ 2 (අ) වගන්තියෙහි විශේෂිතව දක්වා නොමැති හෙයින් වරදවල් ලෙස සලකමින් ඒවා පිළිබඳව වාර්තා කළ හැකි ද යන්න පිළිබඳව අවිනිශ්චිත තත්ත්වයක සිටින මැල්කම් ඔබේ අදහස් විමසයි.

ව්‍යවස්ථා අර්ථ නිරූපණය පිළිබඳ අදාල වන රීති භාවිතා කරමින් මැල්කම්ට උපදෙස් දෙන්න. ඔබේ පිළිතුර තහවුරු කිරීම සඳහා නඩු තීරණ සාකච්ඡා කිරීම අවශ්‍ය වේ.

- 6. 'අනුගමය පූර්ව නිදර්ශන න්‍යායය නීති මූලාශ්‍රයක් වශයෙන් වැදගත් කාර්ය භාරයක් ඉටු නොකරයි'.

ඔබේ පිළිතුර තහවුරු කිරීම සඳහා නඩු තීරණ සාකච්ඡා කරමින් ඉහත ප්‍රකාශය විවේචනාත්මක ඇගයීමකට ලක් කරන්න.

- 7. උත්තම් ප්‍රදේශී මධ්‍යම පාන්තික පිරිමියෙකු වූ නිලන්ට වෛද්‍ය විද්‍යාලයේ දී කලා හමු වන අතර ඔවුහු විවාහ විමට තීරණය කරති. කලා දෑවැද්ද වශයෙන් තමන්ට ගොවිපල අක්කර කිහිපයක්, ගෘහ භාණ්ඩ සහ ආහරණ ලබා දීමේ කොන්දේසියට යටත්ව නිලන්ගේ දෙමාපියෝ විවාහයට කැමැත්ත ලබා දෙති. සුලු ආදායමක් ලබන කලාගේ දෙමාපියෝ ණය මුදලක් ලබාගෙන විශාල විවාහ උත්සවයක් පවත්වති. ඔවුහු දැන් වෛද්‍යවරියක වන කලාට සමහර ආහරණ ද ලබා දෙති.

විවාහයෙන් පසු ඉතිරි දෑවැද්ද දෙන ලෙස නොකඩවා ඉල්ලා සිටින නිලන්ගේ දෙමාපියෝ කලාට හැරිහැර කරමින් හා පහර දෙමින් දෑවැද්ද නොදනහොත් ඇය ආපසු නිවස කරා යවන බවට තර්ජනය කරති. ඉතිරි දෑවැද්ද ලබා දීමට අසමත් වන කලාගේ දෙමාපියෝ දෑවැද්ද තහනම් කිරීමේ පණත නම් නීතියක් පණවා ඇති බවත් නිලන්ට දෑවැද්ද ඉල්ලා සිටිය නොහැකි බවත් පවසති.

මෙය ප්‍රතික්ෂේප කරන නිලයන්ගේ මව තම විවාහයේ දී පවා දෑවැද්ද දුන් බවත් ඇගේ දියණිය විවාහ වන විට ද දෑවැද්ද දෙන බවත් කියා සිටින්නීය. තම පුදුරු වියේ දී පවා දෑවැද්ද දීම තම ගමේ භාවිතාවක්ව තිබූ බවත් පොරොන්දු වූ දෑවැද්ද නොදුනහොත් ස්වාමි පුරුෂයා විසින් මනාලිය ආපසු තම නිවස කරා යැවීම පොදු දෙයක් වූ බවත් උත්තම ප්‍රදේශ් හි 90 විශැති ගම්වැසි කාන්තාවක් වන ලක්ෂ්මි පවසා සිටී. දෑවැද්දක් නොතිබූ හෙයින් තමාට විවාහ විය නොහැකි වූ බව 70 විශැති කාන්තාවක් වන දේවි පිළි ගනී.

දෑවැද්ද දීමට තමන් බැඳී සිටින්නේ ද යන්න පිළිබඳව කලා හා ඇගේ දෙමාපියෝ ඔබෙන් උපදෙස් පතයි. දෑවැද්ද දීම උත්තම ප්‍රදේශ් හි නිතරානුකූලව වලංගු ප්‍රාදේශීය භාවිතාවක් වන්නේ ද යන්න පිළිබඳව ඔවුනට උපදෙස් දෙන්න. ඔබේ පිළිතුර තහවුරු කිරීම සඳහා නඩු තීරණ ඉදිරිපත් කරන්න.

8. පහත සඳහන් ප්‍රකාශ අතුරින් ඕනෑම දෙකක වලංගු භාවය සාකච්ඡා කරන්න

- (i) සියලු ව්‍යවස්ථා අතීතයට බලපාන පරිදි අදාල කල හැකිය.
- (ii) නීතිය හා සාධාරණත්වය ශ්‍රී ලංකාවේ සැමදා පැහැදිලි ලෙස වෙන් ව පවතී.
- (iii) ඉස්ලාමය නීතිය මූලාශ්‍ර හතරක අඩංගු වේ.
- (iv) කාලය අනුව පසුව සම්මත කර ගන්නා ලද සාමාන්‍ය නීතිවලින් විශේෂ නීතිවලට බලපෑමක් ඇති නොකරයි.

(එකකට ලකුණු 10 බැගින්)

ශ්‍රීමත් ඇවිරිණි

THE OPEN UNIVERSITY OF SRI LANKA
 LL.B. DEGREE PROGRAMME – LEVEL 3
 FINAL EXAMINATION 2011
 LEGAL METHOD– LWU 1412
 DURATION - 3 HOURS



Date: 28th March 2011

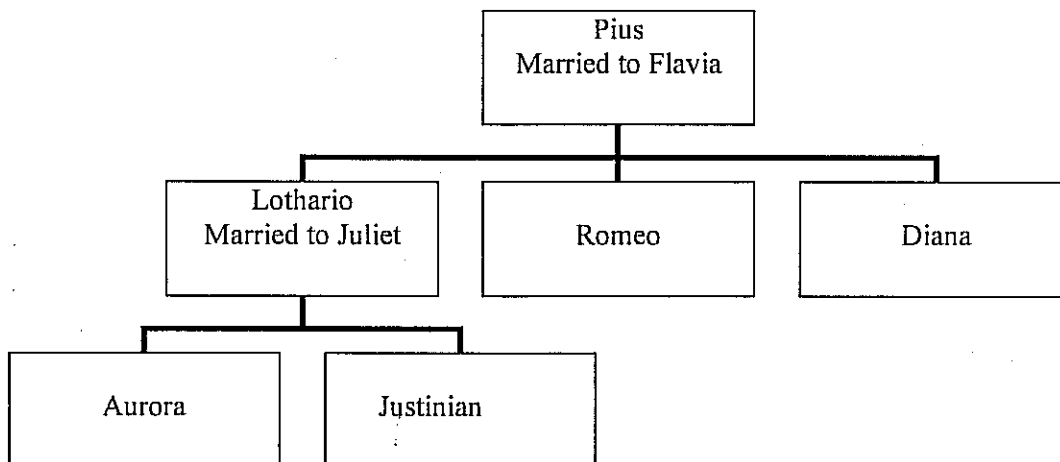
Time: 9.30 a.m. -12.30 p.m.

Students will be penalized for illegible handwriting

Answer **5 questions only** with at **least two questions each** from parts 1 and 2

PART 1– ROMAN LAW

1. Explain your opinion regarding the powers of the head of the Roman family and the suitability of those powers to modern society. (20 marks)
2. Consider the outline of the Pius family and the facts given below and answer the given questions



Pius falls seriously ill and makes a will appointing Lothario his sole heir. He leaves a large estate in Rome, which constitutes about one third of his wealth to Romeo and another property of equal value to Diana. Pius also leaves a set of diamond earrings, necklace and bracelet to Flavia in his will and a gold statue to Aurora. Pius recovers from his illness and continues to acquire more wealth. Some years

later he joins the Roman army which is preparing to go to war. Before leaving Rome, Pius prepares a codicil leaving his collection of paintings to his friend Julius. Pius is killed in the war. Lothario refuses to give the paintings to Julius and Diana decides to bring a *querela in officiosi testamenti* to invalidate the will.

(i) Explain how Pius' property would devolve in the light of the above incidents.

(10 marks)

(ii) Assume that Pius had another child after he made his will and Lothario died before Pius. In the light of this situation, explain the new manner in which Pius's property would be divided among the family members.

(10 marks)

3. Pluto a Roman pater familiars dies leaving his property in equal shares to his sons Aquarius and Silvius. The land is then divided by *adjudicatio* and since the only source of water is on Aquarius' land. Silvius is granted a servitude for the purpose of drawing water. After some years Silvius sells his land to Titus who is only three and a half feet tall and is a clown in the circus. Aquarius refuses to allow Titus to collect water from the well. One day when Titus enters Aquarius' land to collect water and give his cattle a drink Aquarius comes to the well and yells at Titus saying, 'Tiny men, with tiny feet should stay on their own tiny land or they will be in big trouble' He and his slaves then start beating Titus and his servants who leave their cattle and water jars and run away. Two of Titus' slaves' arms are broken and one dies. Aquarius rounds up the cattle and puts them together with his own in his cattle shed. He takes the water jars that have been damaged and uses them to plant flowers. He paints the other jars with fresh paint and uses them to store wine.

Discuss the legal issues arising from the above incidents under the law of property and delict.

4. Compare and contrast the concepts in any **TWO** of the following

(i) *ius scriptum* and *ius non scriptum*

(ii) Contracts *re* and contracts *verbis*

(iii) *Tutela* and *cura*

(iv) *Adoptio* and *adrogatio*

(10 marks each)

PART 2 - LEGAL METHOD

5. Parliament passed the 'Prevention of Mosquito Breeding Act No 11 of 2007 due to the increase in deaths due to dengue fever. There is no vaccine against dengue and prevention of breeding is the only way to fight the disease. According to section 2 (a) of this Act, it is the duty of every owner or occupier to cause 'Open tins, bottles, boxes, coconut shells, split coconuts, tyres or any other article or receptacle found in or within such premises capable of holding water to be removed, destroyed or otherwise effectively disposed of'.

Ranjith who is the owner of a house in Kandy holds a birthday party for his son Priyantha and throws out the garbage after the party. The next day Malcolm a public health inspector arrives to inspect the premises. He finds several soft drink and arrack bottle lids, disposable plastic spoons and yoghurt cups in the garbage heap in the garden. Since none of these items are specifically mentioned in Section 2 (a) of the Act Malcolm is uncertain whether he can report them as an offence and seeks your advice.

Advise Malcolm using applicable aids of statutory interpretation. Case law must be cited to support your answer.

6. The doctrine of binding precedent does not play a significant role as a source of law'.

Critically evaluate the validity of the above statement using case law to support your answer.

7. Neelan a middle class male from Uttum Pradesh meets Kala while in Medical College and they decide to marry. Neelan's parents consent to the marriage on the condition that Kala gives them several acres of farm land, household items and jewellery as dowry. Kala's parents who earn only a small income, borrow some money and have a large wedding for the couple. They give Kala, who is now a doctor some jewellery as well.

After the marriage Neelan's parents keep demanding the balance of the dowry, and harrass and beat Kala and threaten to send her home if it is not given. Kala's parents who cannot provide the balance dowry state that a law called the Prohibition of Dowry Act has been passed and that Neelan cannot claim the dowry.

Neelan's mother denies this saying that she provided a dowry on the occasion of her own marriage and would provide one for her daughters as well. Luxmi a 90 year old villager of Uttum Pradesh says that giving a dowry has been a practice in

their village even when she was a child and that it was common for a husband to send the bride back to her family if the promised dowry was not given. Devi, a 70 year old villager, admits that she was unable to get married as she did not have a dowry.

Kala and her parents seek your advice as to whether they are bound to pay the dowry. Advise them by analysing whether giving of dowry is a legally valid local custom in Uttar Pradesh. Illustrate your answer with case law.

8. Discuss the validity of any **TWO** of the following statements

- (i) All legislation can be applied retrospectively
- (ii) Law and equity have always remained distinctly separate in Sri Lanka
- (iii) Islamic law is contained in four main sources
- (iv) Special laws are not affected by general laws passed later in time

(10 marks each)

இலங்கை திறந்த பல்கலைக்கழகம்
சட்டமாணிப் பட்டப்படிப்புத் திட்டம்
மட்டம் 03

இறுதிப் பரீட்சை - 2010/2011

LWU 1412 -சட்ட முறைமை

காலம்: மூன்று(03) மணித்தியாலங்கள்



திகதி: 28.03.2011

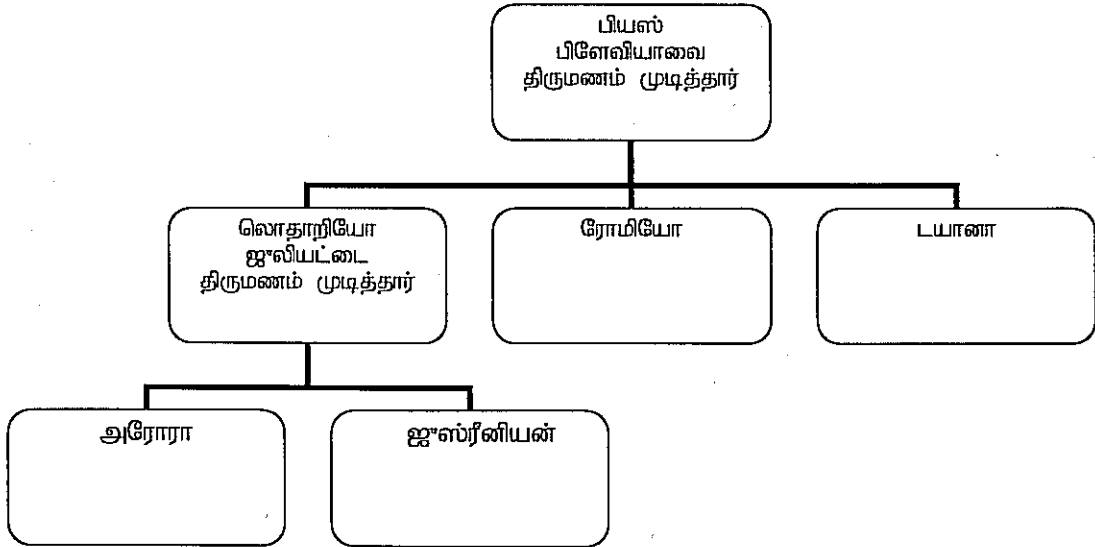
நேரம்: மு.ப 9.30 – பி.ப 12.30

பகுதி I, பகுதி II ஆகியவற்றில் இருந்து குறைந்தது இரண்டுக்களுடன் மொத்தமாக ஐந்து வினாக்களுக்கு மாத்திரம் விடை தருக.

தெளிவற்ற கையெழுத்துக்களுக்காக பரீட்சார்த்திகளுக்கு புள்ளிகள் குறைக்கப்படும்.

பகுதி I - உரோமன் சட்டம்

1. உரோமன் குடும்பத்தின் தலைவரின் அதிகாரங்கள் தொடர்பில் உமது அபிப்பிராயங்களைத் தருவதுடன் நவீன சமுதாயத்தில் அத்தகைய அதிகாரங்களின் பொருத்தப்பாட்டினை விபரிக்குக.
(20 புள்ளிகள்)
2. பியஸ் குடும்பத்தின் வெளிவரம்பையும் மற்றும் கீழே தரப்பட்டுள்ள தரவுகளையும் ஆராய்ந்து தரப்பட்டுள்ள வினாக்களுக்கு விடையளிக்கുക.



பியஸ் கடும் சுகயினமுற்றிருப்பதுடன் லொதாறியோவை தனது ஏக வாரிசாக நியமித்து இறுதி விருப்பாவனம் ஒன்றை ஆக்குகிறான். அதில் அவன் ரோமில் பெரிய சொத்தொன்றை விட்டுச்செல்வததோடு அவனது சொத்தில் மூன்றில் ஒரு பகுதியை ரோமியோவிற்கும் மற்றுமொரு சமபெறுமதியைக்கொண்ட ஆதனம் டயானாவிற்கும் என்றிருந்தது. பியஸ் ஒரு செட் வைர காதணிகளையும், கழுத்தணி மற்றும் கையணி ஆகியவற்றை பிளேவியாவிற்கும் ஒரு தங்க சிலையை அரோராவிற்கும் தனது இறுதி விருப்பாவனத்தில் விட்டுச் செல்கின்றான். பியஸ்

தனது சகயினத்திலிருந்து தேறிவருவதுடன் மேலும் செல்வத்தை பெற்றுக்கொள்கின்றான். சில வருடங்களுக்குப் பின்னர் யுத்தத்திற்கு தயாராகிக்கொண்டிருக்கும் உரோம இராணுவத்தில் இணைந்தான். உரோமை விட்டுச் செல்வதற்கு முன்னர் பியஸ் தனது பெயின்டிங் சேகரிப்புகளை தனது நண்பன் ஜூலியனிற்கு விட்டுச் செல்வதாக கொடிசில் ஒன்றை வரைகின்றான். யுத்தத்தில் பியஸ் கொல்லப்படுகின்றான். லொதாரியோ பெயின்டிங்கை ஜூலியஸ் இற்கு கொடுக்க மறுக்கின்றான் என்பதுடன் டயானா இறுதி விருப்பாவனத்தை வலிதற்றதாகக் *Querela in Officiosi testamenti* ஐக் கொண்டுவர தீர்மானிக்கின்றான்.

(I) மேற்றரப்பட்ட நிகழ்வுகளின் பின்னணியில் பியஸின் சொத்து எவ்வாறு பங்கிடப்படும் என்பதை விபரிக்குக.

(10 புள்ளிகள்)

(II) பியஸ் இறுதி விருப்பாவனம் ஆக்கிய பின்னர் அவனுக்கு இன்னுமொரு பிள்ளை இருப்பதாகவும் பியஸ் இறப்பதற்கு முன்னர் லொதாரியோ இறப்பதாகவும் கருதிக்கொள்க. இந்நிலைமையின் அடிப்படையில் குடும்ப அங்கத்தவர் மத்தியில் பியஸின் ஆதனம் பிரிக்கப்படும் புதிய முறையை விபரிக்குக.

(10 புள்ளிகள்)

3. ஒரு உரோம *pater familiars* ஐ சேர்ந்த புறுட்டோ தனது ஆதனத்தை சம பங்காக தனது புதல்வர்களான அகுவாறியஸ் மற்றும் சில்வியஸ் ஆகியோருக்கு விட்டுவிட்டு இறக்கிறான். நீரைப்பெறும் ஒரே மூலமாக அகுவாறியஸின் காணியிருக்கும் போது காணியானது *adjudicatio* யால் பிரிக்கப்பட்டது. நீரைப் பெற்றுக்கொள்ளும் பொருட்டு சில்வியஸ்க்கு சேவக உரிமை வழங்கப்பட்டது. சேர்க்களில் வீரனான மூன்றரை அடி மாத்திரமே உயரமான டைடஸிற்கு தனது காணியை சில வருடங்களுக்கு பின்னர் சில்வியஸ் விற்பனை செய்கின்றான். அகுவாறியஸ் தனது கிணற்றில் இருந்து டைடஸ் நீரை பெறுவதை மறுத்தான். ஒரு நாள் டைடஸ் நீரை பெறுவதற்கும் தனது கால்நடைகளுக்கு தண்ணீர் கொடுக்கவும் அகுவாறியஸின் காணிக்ஞர் சென்ற போது அகுவாறியஸ் கிணற்றடிக்கு வந்த டைடஸ்ஸை பார்த்து “குட்டிக் காலுடன் இருக்கும் குட்டை மனிதர்கள் தங்களது சின்னக் காணிக்ஞர்களேயே இருக்க வேண்டும் அல்லது அவர்கள் பெரிய பிரச்சினையில் விழவேண்டியிருக்கும்” என கூச்சலிட்டுக்கொண்டு கோபமாக கத்தினான். அப்போது அவனும் அவனது அடிமைகளும் டைடஸையும் அவனது வேலையாட்களையும் அடிக்க ஆரம்பிக்கவும் அவர்கள் கால்நடைகளையும் தண்ணீர் பாத்திரங்களையும் விட்டு விட்டு ஓடலாயினர். டைடஸின் இரு அடிமைகளின் கைகள் முறிந்ததுடன் ஒருவன் இறக்கின்றான். அகுவாறியஸ் கால்நடைகளை சுற்றி வளைத்து அவற்றை ஒன்றாக தனது கால்நடைகளுடன் தனது கால்நடைக் கூண்டிற்குள் அடைக்கின்றான். உடைந்திருந்த தண்ணீர் எடுக்கும் பாத்திரங்களை அவன் எடுத்து அவற்றை பூச்செடிகளை நடுகை செய்ய பயன்படுத்தினான். ஏனைய பாத்திரங்களை அவன் புதிய வர்ணங்களைக் கொண்டு வர்ணப்பூசிடுவதுடன் அவற்றை வைன் சேகரிக்கும் இடமாக பயன்படுத்தினான்.

தரப்பட்ட நிகழ்வுகளில் இருந்து ஆதனச்சட்டம் மற்றும் தீங்கியல் சட்டத்தின் கீழ் எழும் சட்டப்பிரச்சினைகளை ஆராய்க.

4. கீழ்வருவனவற்றில் எவையேனும் இரண்டு கருத்தேற்பு தொடர்பில் ஒப்பிடும் முரண்பட்டும் ஆராய்க.

- (i) *isu scriptum* and *ius non scriptum*
- (ii) *Contracts re* and *contracts verbis*
- (iii) *Tutela* and *cura*
- (iv) *Adoptio* and *adrogatio*

(10 புள்ளிகள்)

பகுதி II – சட்டமுறமை

5. டெங்கு காய்ச்சல் காரணமாக அதிகரித்த இறப்பினை ஒட்டி 2007 ல் இல - 11 நுளம்புகள் பரவுவதை தடுக்கும் சட்டம் ஒன்றை பாராளுமன்றம் நிறைவேற்றியது. டெங்குவிற்கு எதிராக எந்தவித ஊசி மருந்தும் இல்லை என்பதுடன் நோயிற்கு எதிராக போராடுவதே பரவுதலை தடுக்கும் ஒரே வழியாகும். சட்டத்தின் பிரிவு 2(அ) விற்கு அமைய 'திறந்த ரின், போத்தல்கள், பெட்டிகள், தேங்காய்சிரட்டைகள், கோம்பைகள், டயர்கள் அல்லது அதனை போன்ற நீரை வைத்துக்கொள்ளக்கூடிய ஏதேனும் பொருள்கள் தமது காணிக்குள் இருந்தால் அதனை அகற்றியோ இல்லாதொழித்தோ அல்லது ஏதேனும் ஆக்கபூர்வமான விதத்தில் இல்லாது செய்வது ஒவ்வொரு உரிமையாளரதும் அல்லது குடியிருப்பாளரதும் கடமையாகும்.

கண்டியில் ஒரு வீட்டின் உரிமையாளனான ரஞ்சித் தனது மகன் பிரியந்தவிற்கு பிறந்தநாள் வைபவம் ஒன்றினை நடாத்துவதுடன் வைபவத்தின் பின்னர் குப்பைகளை வெளியே எறிகின்றான். மறுநாள் பொது சுகாதார பரிட்சகரான மெல்கம் காணியை பரிட்சிக்க வருகிறார். அவர் பல மென்பாண மற்றும் சாராய போத்தல் மூடிகளையும், அகற்றப்படக்கூடிய பிளாஸ்டிக் கரண்டிகளையும் யோகட் கப்புகளையும் காணியிலுள்ள குப்பை கிடங்கில் காண்கின்றான்.

சட்டத்தில் பிரிவு 2(அ)வின் கீழ் இப்பொருட்களில் எந்த ஒரு பொருளும் குறிப்பாக கூறப்படாததால் அவற்றை குற்றமாக அறிக்கையிட முடியுமா என நிச்சயமற்றிருப்பதால் மெல்கம் உமது அறிவுரையை நாடுகின்றார்.

நியதிச்சட்ட பொருள்கோடலுக்கு பொருத்தமான சட்டத்தினை பாவித்து மெல்கமிற்கு அறிவுரை செய்க. உமது விடைக்கு ஆதாரமாக தீர்ப்புச்சட்டம் தரப்படவேண்டும்.

6. முத்தீர்ப்பு எனும் கோட்பாடானது சட்டத்தில் தோற்றுவாய் எனும் வகையில் ஒரு முக்கிய பங்கையாற்றமாட்டாது.

உமது விடையை ஆதாரப்படுத்த தீர்ப்புச்சட்டத்தை தருவதன் மூலம் மேந்தரப்பட்ட கூற்றின் வலிதுடமையை நுணித்து மதிப்பீடு செய்க.

7. உத்தும் பிரதேச நடுத்தர குடும்பத்தை சேர்ந்த நீலன் மருத்துவ கல்லூரியில் இருக்கும் போது கலாவை சந்திப்பதோடு அவர்கள் திருமணம் செய்துகொள்ள தீர்மானிக்கின்றனர். கலா பல ஏக்கர் பயிர்செய்கை நிலமும், வீட்டுப்பாவனைப் பொருட்கள் மற்றும் நகைகளை சீதனமாக தமக்கு தர வேண்டும் எனும் நிபந்தனையின் அடிப்படையில் நீலனின் பெற்றோர் திருமணத்திற்கு சம்மதிக்கின்றனர். சிறிய வருமானத்தைப் பெறும் கலாவின் பெற்றோர் கொஞ்சப் பணத்தை கடனாகப்பெற்று அவர்களுக்கு பெரியளவிலான திருமண வைபவத்தினை நடத்தி வைக்கின்றனர். அவர்கள் தற்போது வைத்தியராக இருக்கும் கலாவிற்கு சில நகைகளையும் வழங்குகிறார்கள். திருமணத்திற்குப் பின்னர் நீலனின் பெற்றோர் மிகுதி சீதனத்தை கேட்டும் அடித்தும் கலாவை துன்புறுத்தியதுடன் அது தரப்படாவிட்டால் அவளை வீட்டிற்கு அனுப்பி விடுவதாகவும் அச்சுறுத்தினர். மிகுதி சீதனத்தை கொடுக்க இயலாத கலாவின் பெற்றோர் சீதனத் தடுப்புச்சட்டம் நிறைவேற்றப்பட்டிருப்பதால் நீலனால் சீதனத்தை கோரமுடியாது என்கின்றனர்.

நீலனின் தாய் தான் தனது திருமணத்தின் போது சீதனம் வழங்கியதாகவும் அத்துடன் தான் தனது புதல்வியர்களில் ஒருவருக்கு சீதனம் வழங்கியதாகவும் கூறி அதனை மறுத்தார்.

இலட்சுமி எனும் 90 வயதையுடைய உத்தும் பிரதேச வாசி கூறும்போது சீதனம் கொடுப்பதென்பது தமது கிராம நடைமுறை என்பதுடன் தான் சிறுமியாக இருக்கும் போது கூட உடன்பட்ட சீதனத்தை மணமகள் கொடுக்காவிட்டால் அவளை அவளது குடும்பத்திற்கு கணவன் அனுப்பிவிடுவது பொதுவான விடயம் என்றார்.

தேவி எனும் 70 வயது கிராமவாசி தன்னிடம் சீதனம் இல்லாமையால் தன்னால் திருமணம் முடிக்க இயலாமல் போனதை ஒத்துக்கொண்டார்.

கலாவும் அவளது பெற்றோரும் தாம் சீதனம் கொடுக்க கட்டுப்பட்டுள்ளார்களா என்பது தொடர்பில் உமது அறிவுரையை நாடுகின்றனர். சீதனம் வழங்குதல் எனும் உத்தும் பிரதேச உள்நாட்டு வழக்காறானது சட்ட வலிதுடமையானதா என்பதை ஆய்வு செய்து அவர்களுக்கு அறிவுரை செய்க. தீர்ப்புச் சட்டத்துடன் உமது விடையை எடுத்துக்காட்டுக.

8. கீழ்வரும் ஏதேனும் இரண்டு கூற்றின் வலிதுடமையை ஆராய்க.
- (i) அனைத்து சட்டவாக்கமும் பின்நோக்கி ஆளப்படக்கூடியவை.
 - (ii) இலங்கையில் சட்டமும் ஒப்பரவுமானது எப்பொழுதும் மிகத்தெளிவாக வேறாக உள்ளது.
 - (iii) இஸ்லாமிய சட்டமானது நான்கு தோற்றுவாய்களைக் கொண்டுள்ளது.
 - (iv) பின்னர் நிறைவேற்றப்பட்ட பொதுச்சட்டத்தால் சிறப்புச்சட்டங்கள் பாதிப்புக்குள்ளாக மாட்டாது.

(ஒவ்வொன்றுக்கும் 10 புள்ளிகள்)

(பதிப்புரிமை பெற்றது)